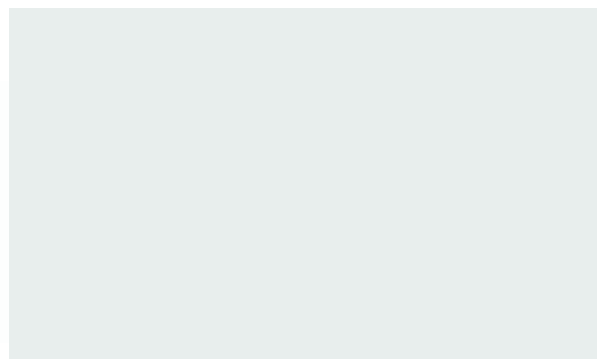

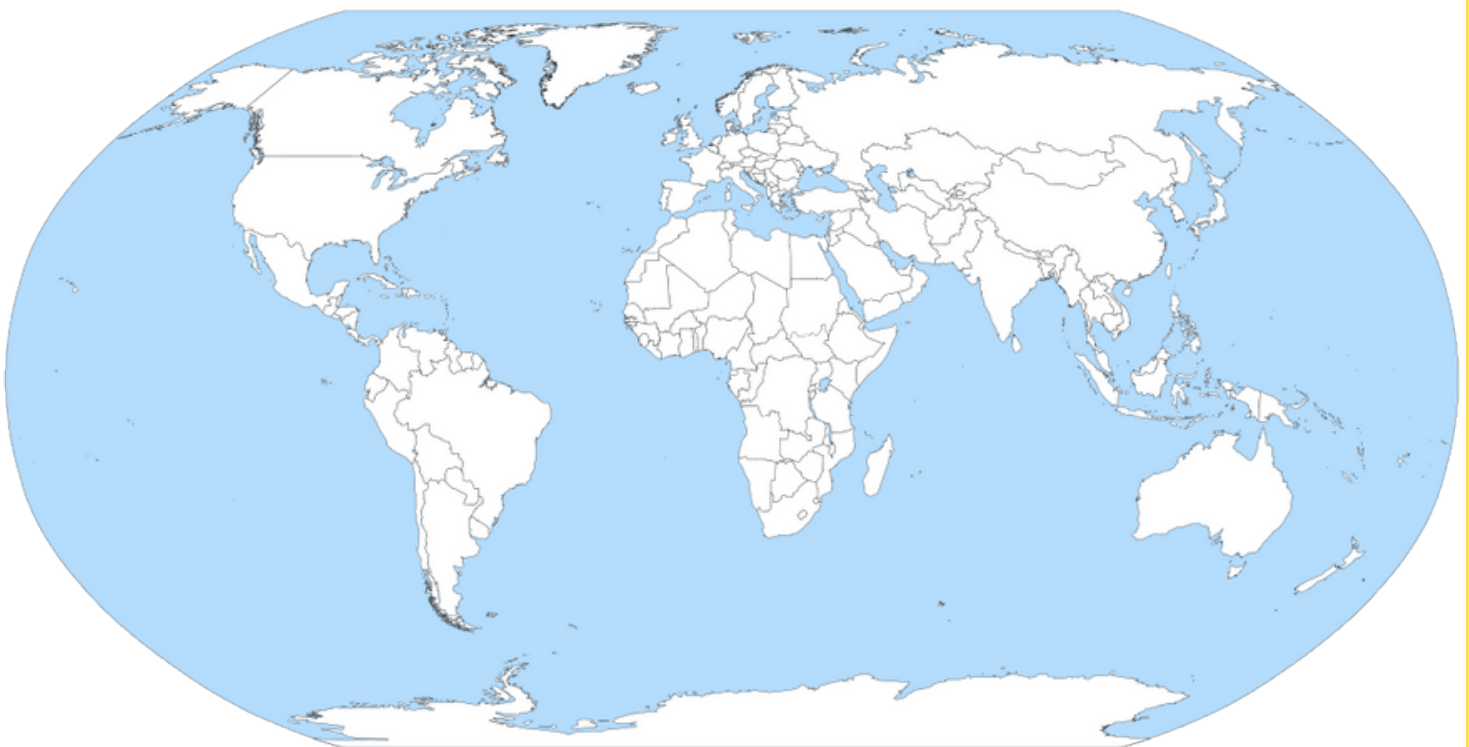


7.1 Lietuvos adresas

Surasti, kur yra Lietuva, tau padės pasaulio **žemėlapis**. Jis vaizduoja daug kartų sumažintą Žemės paviršių su žemynais bei vandenynais. Pažvelgę į žemėlapij, suraskite Europą ir Baltijos jūrą, prie kurios ir įsikūrusi Lietuva.



1. Pasaulio žemėlapyje pažymėkite šalį, kurioje gyvenate, ir Lietuvą. Žemėlapyje užrašykite šalių pavadinimus. Nupieškite jų vėliavas.



7.1 Lietuvos adresas

Kaip jau žinote, Lietuva yra prie Baltijos jūros. Sausuma ir Baltijos jūra Lietuva ribojasi su keliomis šalimis kaimynėmis: Latvija (sausumos sienos ilgis – 588 km, jūros siena – 22 km), Baltarusija (sienos ilgis – 677 km), Lenkija (sienos ilgis – 104 km), Rusija (Kaliningrado sritis; sausumos sienos ilgis – 255 km, Kuršių mariomis – 18 km, jūra – 22 km). Lietuvai priklausančios Baltijos jūros pakrantės ilgis – 90,66 km.



2. Europos žemėlapyje pažymėkite perskaitytų valstybių pavadinimus. Su kuria valstybe Lietuvos siena yra ilgiausia, o su kuria – trumpiausia? Naudokitės atlasu.



3. Įsivaizduokite, kad per vasaros atostogas viešėsite Lietuvoje. Išvardykite šalis, virš kurių skrisite ar kuriomis keliausite į Lietuvą iš jūsų gyvenamosios šalies. Naudokitės atlasu.