

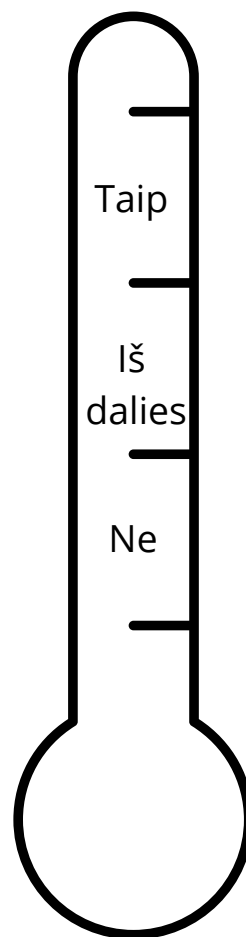
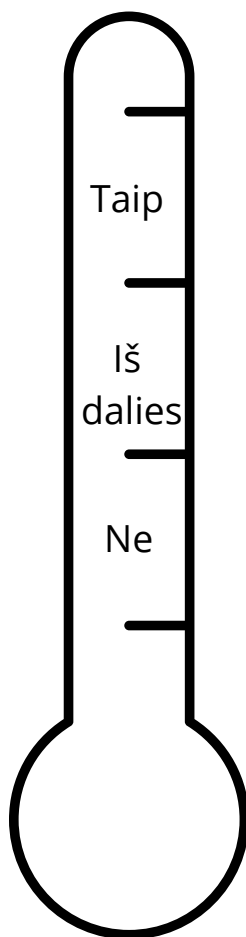
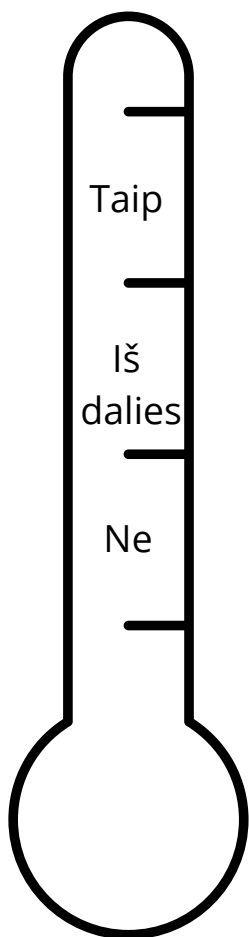
6.3 (Įsi)vertinimas

Perskaitykite teiginius ir nuspalvinkite tą termometro dalį, kuri geriausiai apibūdina jūsų atsakymą.

Dirbdamas (-a)
grupėje užrašiau
problema.

Pateikiau
siūlymą, kaip
spręsti
problema.

Balsavau dėl
pritarimo
bendram
sprendimui.



Mokytojo komentaras: _____
